




MASSE	Séquence 1	Séance 1
CE1	TRACE ÉCRITE AVEC CONCLUSION	

	<p>Quelle est la bouteille la plus lourde ?</p> <p>Chaque groupe d'élèves a une bouteille de masse différente.</p>	
		
	<p>Si on utilise les gros cubes comme étalon :</p> <p>La bouteille E pèse</p> <p>La bouteille F pèse</p>	
	<p>La bouteille est plus lourde que la bouteille</p>	
	<p>Pour comparer les masses de deux objets, on mesure combien ils pèsent d'étalons et on compare les nombres. Les étalons doivent être identiques pour comparer deux masses.</p>	